

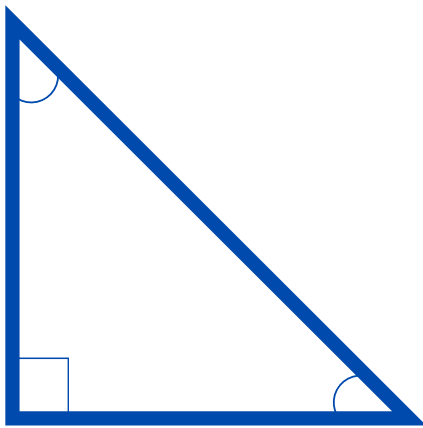


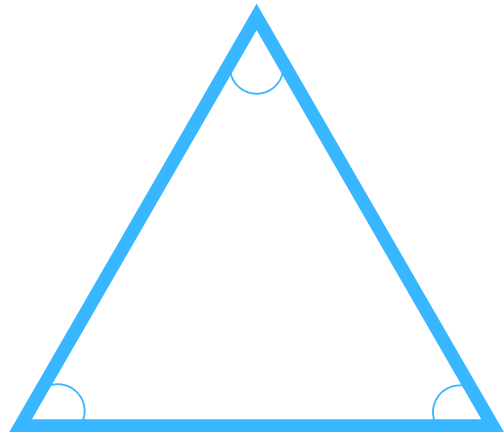
Височини в триъгълници

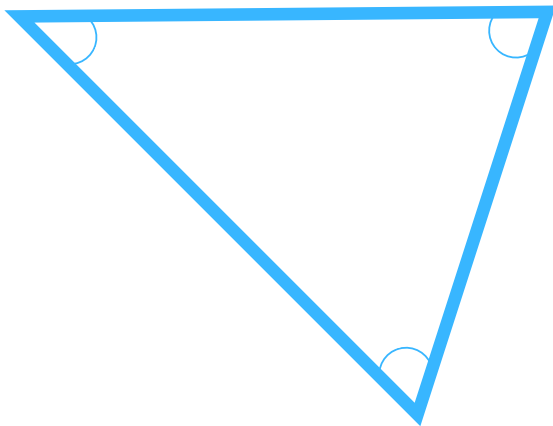


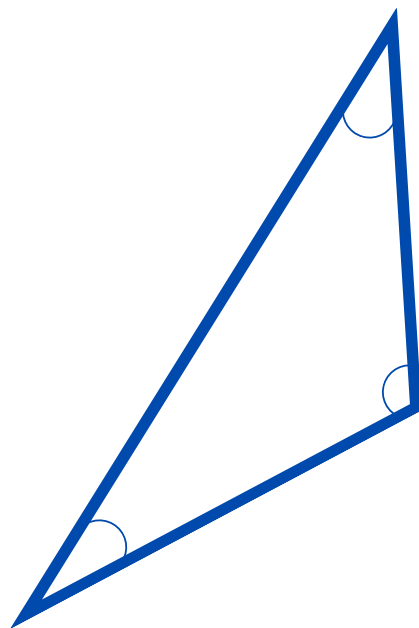
Име: _____ Клас: _____

Постройте височините в дадените триъгълници, означете ги и намерете ортоцентровете:












Височини в триъгълници



Име: _____ Клас: _____

Постройте върху мрежата правоъгълен триъгълник с катети 2 cm и 3 cm. Измерете хипотенузата.



Постройте върху мрежата равнобедрен триъгълник MNP с основа $MN = 5$ cm и разстояние от върха P до MN , равно на 3,5 cm.

