




Име: _____

Дата: _____

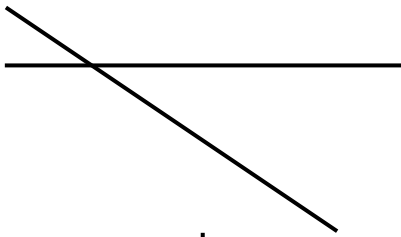
Видове прави

Определете видът на правите и го попълнете в полето:

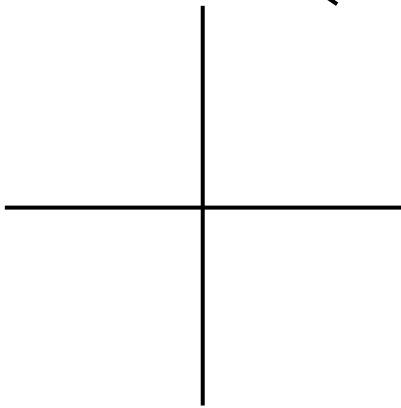
1.



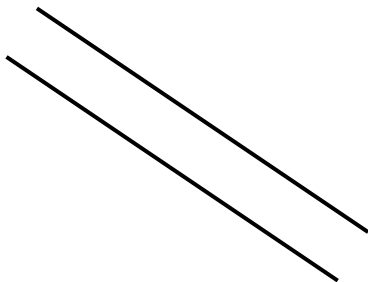
2.



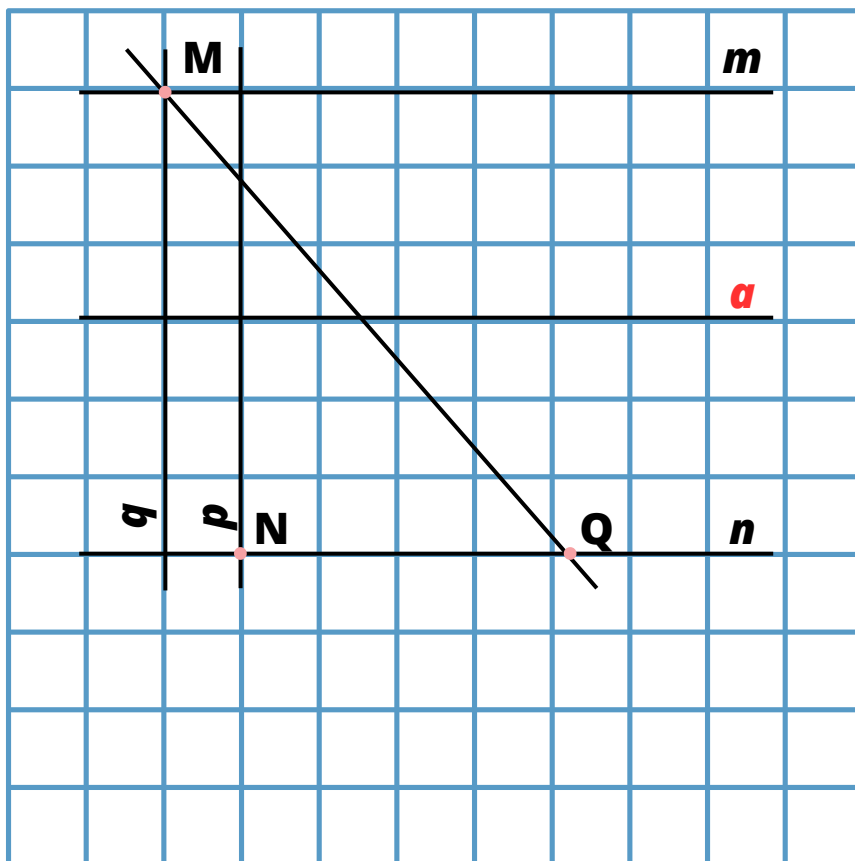
3.



4.



1. Запишете двойките успоредни прави
2. Запишете правите, успоредни на правата a и минаващи през точките М и N
3. Намерете разстоянието от тези прави до правата a , като приемете за единица дължината на едно квадратче в мрежата.



1. Запишете двойките успоредни прави
2. Определете разстоянието между успоредните прави

