





Име: _____ Клас: _____


Задача №1

Две праскови тежи колкото пет сливи, а една слива тежи колкото шест бадема. Колко бадеми тежат колкото четири праскови?



Задача №2

Две зайчета и едно коте тежат 4 kg, а четири зайчета и три котета пилета тежат 9 kg. Колко тежат шест зайчета и четири котета?



Задача №3

Четири чушки и 200 g тежат колкото чушка и две краставици. Три краставици тежат колкото домати и краставица. Ако чушката тежи 70g, колко тежат 2 домата? Наприви сам схемата, за да решиш задачата.

