



Тест “Римски цифри”

Вариант 1

Име-----Фамилия-----Клас-----

Въпрос 1 (1т.): Представете числото 36 с римски цифри.

Въпрос 2 (1т.): Как се изразява числото 94 с римски цифри?

Въпрос 3 (1т.): Съставете числото 57 с римски цифри.

Въпрос 4 (1т.): Как се представя числото 120 с римски цифри?

Въпрос 5 (1т.): Как се изразява числото 499 с римски цифри?

Въпрос 6 (1т.): Съставете числото 78 с римски цифри.


Въпрос 7 (1т.): Как се представя числото 789 с римски цифри?


Въпрос 8 (1т.): Колко е разликата между числата XIV и IX?

Въпрос 9 (1т.): Съставете числото 205 с римски цифри.

Текстови задачи

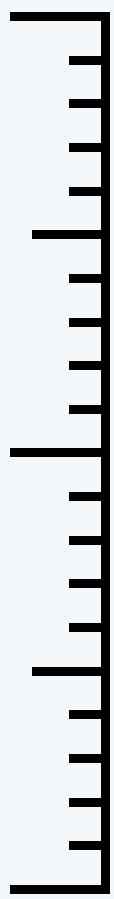
Задача 1 (3 т.): Римският час можел да продължи 75 мин. през лятото и 44 мин. през зимата. С колко минути е по-къс часа през зимата?






Текстови задачи

Задача 2 (3 т.): Най-високият връх в света е в. Еверест, който е висок 8 849м., а най-високият връх в България е в. Мусала, висок 2 925м. С колко метра е по-висок в. Еверест?





в. Еверест



в. Мусала

Задача 3 (3 т.): В античния град Рим има 7 форума (площади). Ако на всеки форум има по 15 сгради, колко общо сгради има в града?





Тест “Римски цифри”

Вариант 2

Име-----Фамилия-----Клас-----

Въпрос 1 (1т.): Представете числото 85 с римски цифри.

Въпрос 2 (1т.): Как се изразява числото 142 с римски цифри?

Въпрос 3 (1т.): Съставете числото 63 с римски цифри.

Въпрос 4 (1т.): Как се представя числото 399 с римски цифри?

Въпрос 5 (1т.): Как се изразява числото 777 с римски цифри?

Въпрос 6 (1т.): Съставете числото 456 с римски цифри.

Въпрос 7 (1т.): Как се представя числото 789 с римски цифри?


Въпрос 8 (1т.): Колко е разликата между числата XXI и IX?

Въпрос 9 (1т.): Съставете числото 309 с римски цифри.

Текстови задачи


Задача 1 (3 т.): В римският Колизеум, мястото където се провеждали битки между гладиатори и животни, са убити 500 000 души и 1 200 000 животни. С колко повече са убитите животни?





Текстови задачи

Задача 2 (3 т.): Колизеумът в Рим има дължина 188 м. и 156 м. ширина. С колко метра дължината му е по-голяма от неговата ширина?



Задача 3 (3 т.): За 120 дни в Колизеума са убити 11 000 диви животни и 10 000 гладиатори. Колко общо хора и животни губят живота си там?

