



Име _____

Клас _____

Метър, дециметър, сантиметър

$1\text{ м} = 10\text{ дм}$

$1\text{ дм} = 10\text{ см}$

$1\text{ м} = 100\text{ см}$



Метри

Дециметри

2	20
	80
4	
	50
6	
	70
3	
	90

Сантиметри

Дециметри

80	8
40	
	3
10	
	6
50	
20	
	7

60 см = дм

40 см = дм

9 дм = см


7 дм = см

2 м = дм

6 м = дм

2 м = см

8 м = см




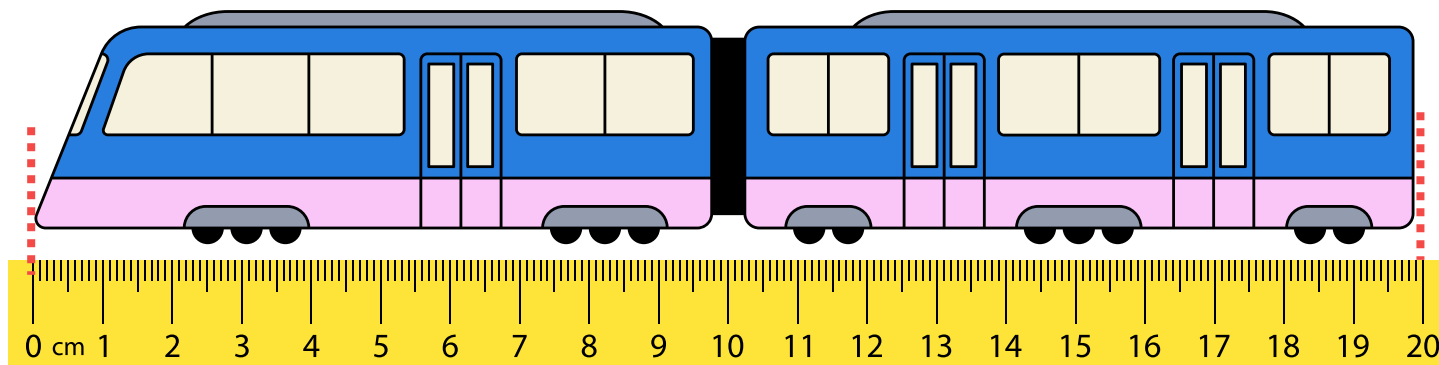


Име _____

Клас _____

Метър, дециметър, сантиметър

Запишете дължината на играчките в сантиметри, а след това ги превърнете в милиметри.



Косата на Ния е дълга 50 cm , а тази на Лили е 4 dm . Кое от двете момичета има по-дълга коса?



Майката на Мими си купила плат дълъг 2 m . От него отрязала 5 dm за шал. Колко дециметра от плата са й останали? Може ли с тях да си ушие рокля?

