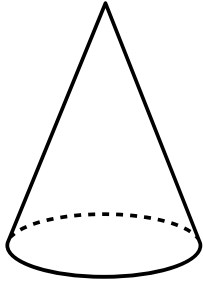




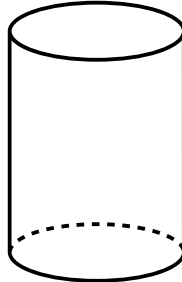
Име: \_\_\_\_\_ Клас: \_\_\_\_\_

## ГЕОМЕТРИЧНИ ТЕЛА

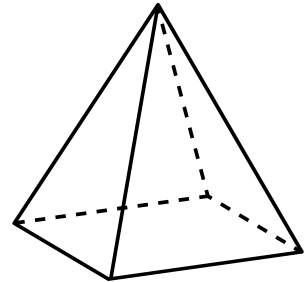
Под всяко геометрично тяло запишете неговото наименование



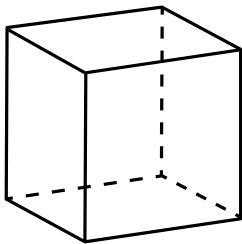
\_\_\_\_\_



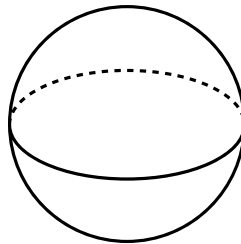
\_\_\_\_\_



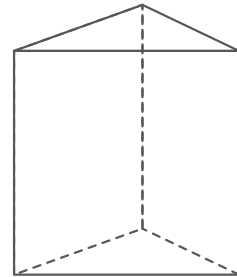
\_\_\_\_\_



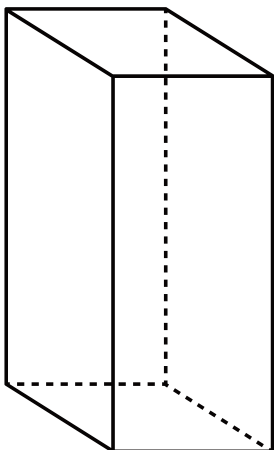
\_\_\_\_\_



\_\_\_\_\_



\_\_\_\_\_



\_\_\_\_\_

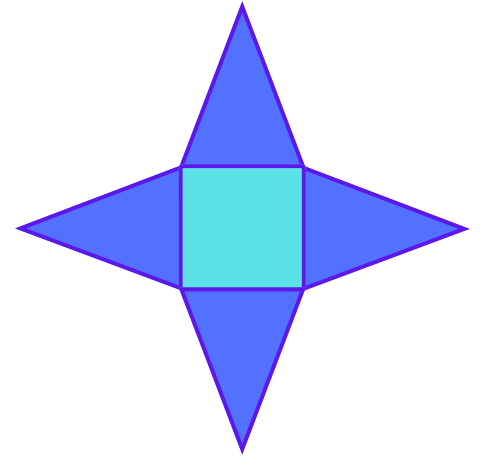
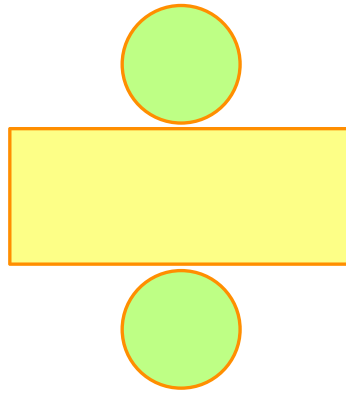
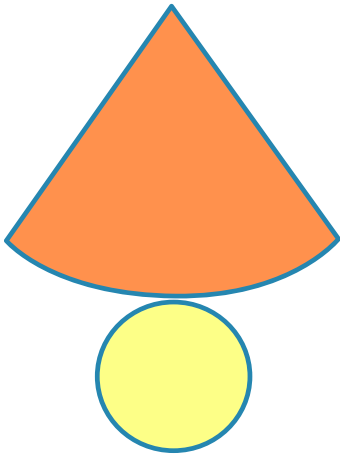
**Отговорете на въпросите за елементите на правоъгълния паралелепипед**

- Колко е броят на върховете му? \_\_\_\_\_
- Колко е броят на стените му? \_\_\_\_\_
- Колко на брой ръбове има? \_\_\_\_\_



Име: \_\_\_\_\_ Клас: \_\_\_\_\_


На кои геометрични тела са развивките?



Кои геометрични тела откриваш на изображенията?



Състави задача по съкратения запис и я реши:

 - 1850

 - с 250 повече от цилиндрите

 - със 185 по-малко от конусите

\_\_\_\_\_ ? общо ?