



Тест върху тема "Час"



Вариант 1

Име: _____ Клас: _____ Дата: _____

Част 1: Отговорете на въпросите (1 точка):

1. Какво е часът?

- а) Мярка за температура
- б) Мярка за време
- в) Мярка за тежест

2. Колко часа има на един часовник (1 точка)?

- а) 10
- б) 12
- в) 15

3. Как се казва малката стрелка на часовника (1 точка)?

- а) Минутна
- б) Секундна
- в) Часовникова

4. Как се казва голямата стрелка на часовника (1 точка)?

- а) Минутна
- б) Секундна
- в) Часовникова

Част 2: Часове и Минути

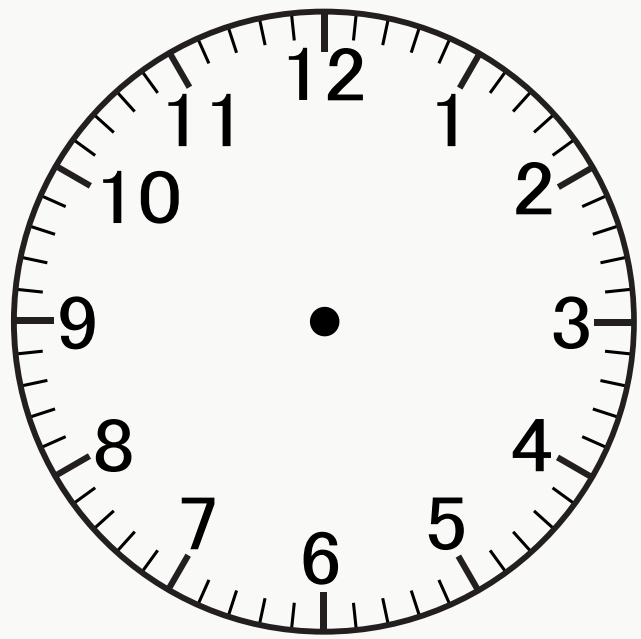
1. Кой час показва часовникът (1 точка)?

- а) 3
- б) 6
- в) 9







2. Нарисувай стрелките на часовниците (по 2 точки за всеки):



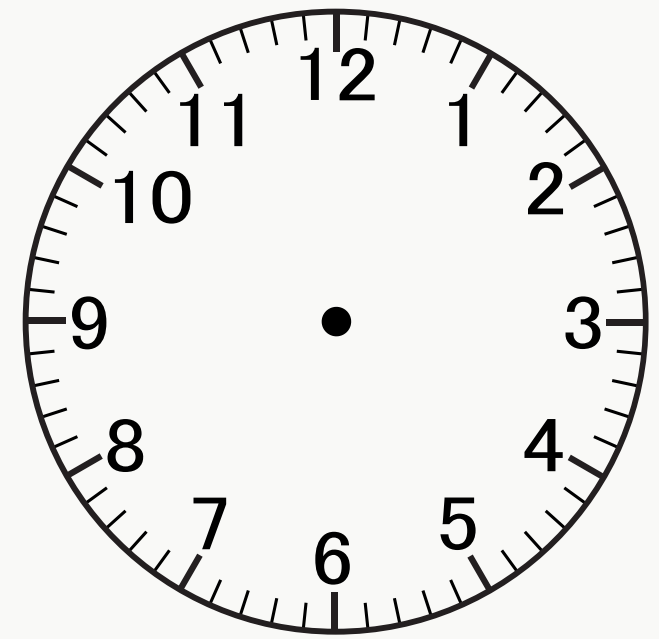
3 часа



5 часа



7 часа



10 часа

Част 3: Разгледайте часовниците и отговорете (по 2 точки при верен отговор):

- В колко часа Мая отива на спорт?
- А кога се връща от спорт?



----- часа



----- часа

Част 4: Текстови Задачи

Семейство Петрови пътуваха за своята семейна почивка 2 часа до Пловдив и още 5 часа до Варна. Колко часа общо са пътували семейство Петрови?

Част 5: Числова редица

Довършете числовите редици:

18, 15, , , 6, 

3, 5, , 9, , 11, , 15



Тест върху тема "Час"



Вариант 2

Име: _____ Клас: _____ Дата: _____

Част 1: Отговорете на въпросите (1 точка):

1. Какво е часът?

- а) Мярка за температура
- б) Мярка за време
- в) Мярка за тежест

2. Колко часа има на един часовник (1 точка)?

- а) 10
- б) 12
- в) 15

3. Как се казва малката стрелка на часовника (1 точка)?

- а) Минутна
- б) Секундна
- в) Часовникова

4. Как се казва голямата стрелка на часовника (1 точка)?

- а) Минутна
- б) Секундна
- в) Часовникова

Част 2: Часове и Минути

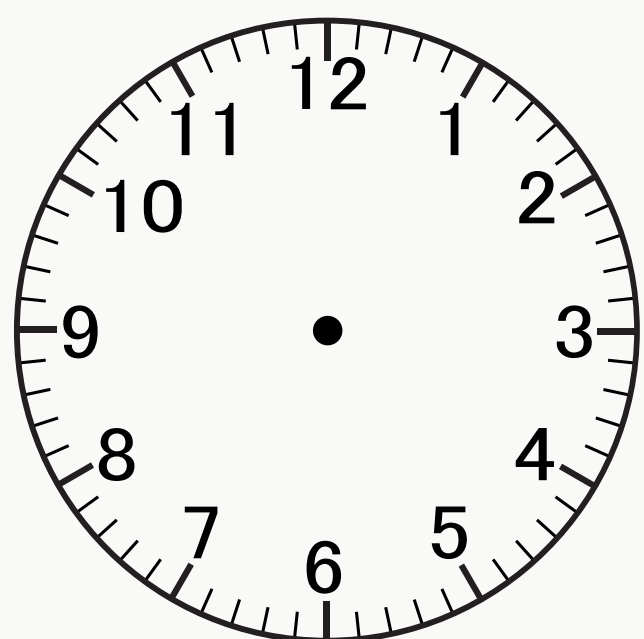
1. Кой час показва часовникът (1 точка)?

- а) 3
- б) 6
- в) 9

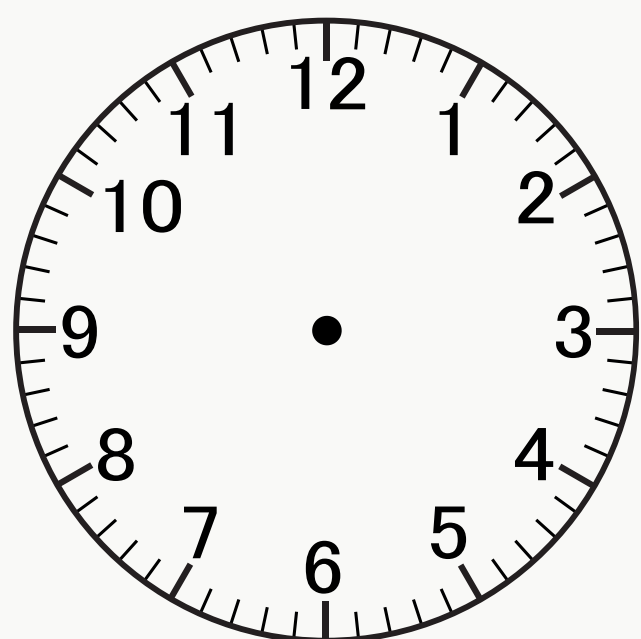




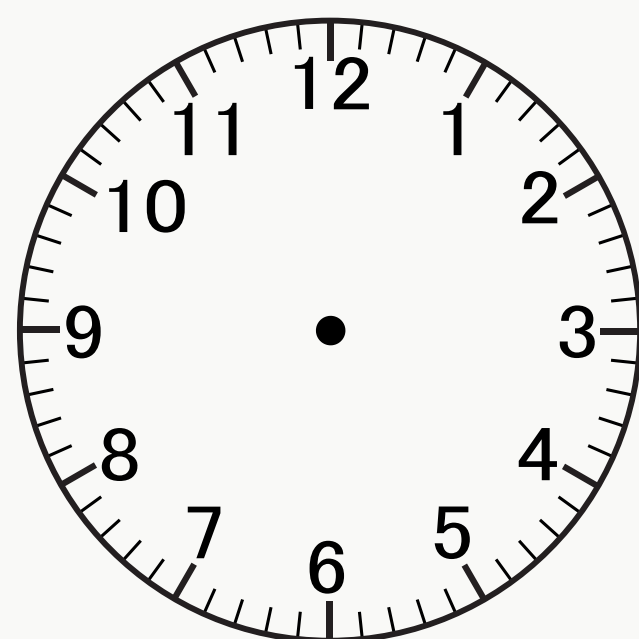
2. Нарисувай стрелките на часовниците (по 2 точки за всеки):



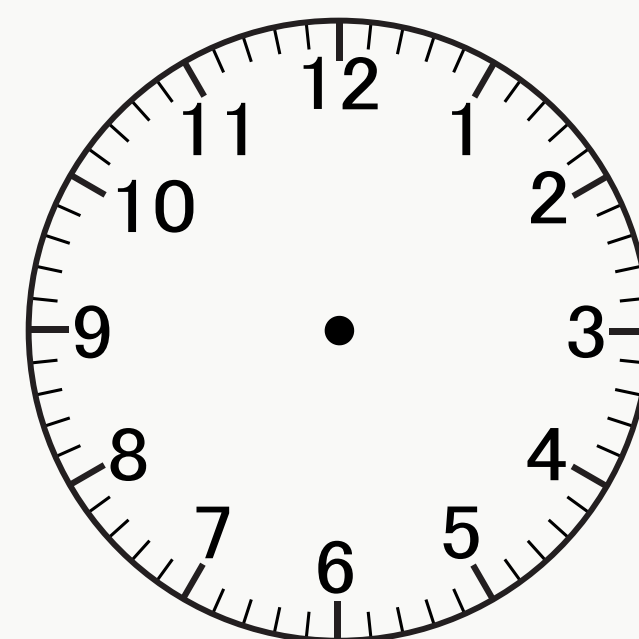
2 часа



4 часа



9 часа



12 часа

Част 3: Разгледайте часовниците и отговорете (по 2 точки при верен отговор):

- В колко часа Георги отива на пазар?
- А кога се връща?



----- часа



----- часа

Част 4: Текстови Задачи

Тренировката на Биляна по художествена гимнастика започва в 2 часа и продължава 3 часа. В колко часа Биляна приключва с тренировката?

Част 5: Числова редица

Довършете числовите редици:

16, 14, , 10, , 6

2, 5, , 11, , 17, 