


# Тест върху “Събиране на 10, 20, 30.....100”

## Вариант 1

Име.....Фамилия.....Клас.....



### Част 1: Изчисли събирането (по 1 т. за всеки пример)

$30 + 40 = ?$

$10 + 50 = ?$

$20 + 30 = ?$

$40 + 20 = ?$


$50 + 10 = ?$

### Част 2: Задачи с неизвестно (по 2 т. за всеки пример)

$70 + x = 90$

$x + 20 = 60$

$30 + x = 70$



### Част 3: Практически задачи (по 3 т. за всяка задача)

**Задача 1:** Ако имате 25 сладоледа и приятелят ви ви подари още 15, колко сладоледа ще имате общо?


**Задача 2:** В една кутия има 60 винта, а в друга – 30. Колко винта има общо в двете кутии?



60 винта



30 винта





## Част 4: Текстови задачи

**Задача 1:** Мария има 40 лева, а след това татко ѝ и дал още 30 лева. Колко пари общо има Мария?



**Задача 2:** Петър има 35 колички. Неговите родители му купуват още 25. Колко колички общо има Петър?




### **Бонус въпрос: Изчислително пътешествие**

- Запишете числата от 10 до 100, като пропуснете всяко четвърто число.
- Напишете числата, които сте използвали за предходната задача, във възходящ ред.

Успех!


Надяваме се този тест да ви бъде интересен и полезен. 🌟💡



# Тест върху “Събиране на 10, 20, 30.....100”

## Вариант 2

Име.....Фамилия.....Клас.....



### Част 1: Изчисли събирането (по 1 т. за всеки пример)

$20 + 40 = ?$

$10 + 30 = ?$

$20 + 50 = ?$

$60 + 20 = ?$


$50 + 50 = ?$

### Част 2: Задачи с неизвестно (по 2 т. за всеки пример)

$60 + x = 80$

$x + 30 = 50$

$40 + x = 80$




### Част 3: Практически задачи (по 3 т. за всяка задача)


**Задача 1:** Ако имате 3 кутии с цветни моливи. Първата кутия съдържа 20 червени молива, втората - 30 сини, а третата - 40 зелени. Колко цветни молива имате общо?



20 червени



30 сини



40 зелени



**Задача 2:** На плажа има 2 торби с пясък. Всяка торба съдържа 20 кг пясък. Ако добавите още 30 кг пясък към всяка торба, колко килограма пясък ще има общо?





#### Част 4: Текстови задачи

**Задача 1:** В книжарница са пристигнали 2 кашона с книги. Всеки кашон съдържа по 20 книги. Ако от тях са взети 10 книги за подарък на всяко дете в детската библиотека, колко книги ще останат в книжарницата?



**Задача 2:** Магазин продава 3 вида сладкиши: шоколад, бисквити и бонбони. Ако Катя купи по 10 пакета от всеки вид, колко пакета сладкиши ще има общо?



#### Бонус въпрос: Изчислително пътешествие

- Запишете числата от 10 до 100, като пропуснете всяко трето число.
- Напишете числата, които сте използвали за предходната задача, в низходящ ред.

Успех!

Надяваме се този тест да ви бъде интересен и полезен. 🌟💡