



Име: _____ Клас: _____

СБОР НА ОТСЕЧКИ

Задача №1

Намерете сбор на отсечките АВ и ВС:



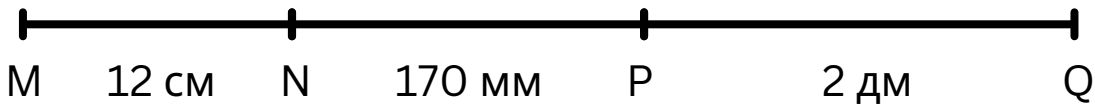
AB=.....

BC=.....

AB+BC=.....

Задача №2

Намерете сбор на отсечките MN, NP и PQ:



MN=.....

NP=.....

PQ=.....

MN+NP+PQ=.....

Задача №3

Намерете сбор на отсечките АВ, ВС и CD:



.....=.....

.....=.....


.....=.....

.....=.....

РАЗЛИКА НА ОТСЕЧКИ

Задача №1

Намерете разликата на отсечките AC и AB:



AC=.....

AB=.....

AC-AB=.....

Задача №2

Намерете разликата на отсечките MQ и NQ:



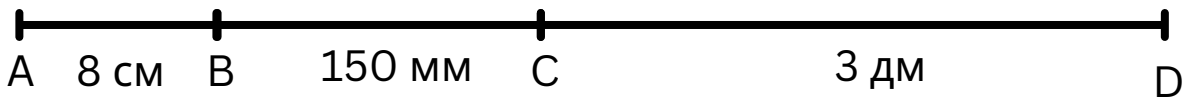
MQ=.....

NQ=.....

MQ-NQ=.....

Задача №3

Намерете разликата на отсечките AD и CD:



.....=.....

.....=.....

.....=.....